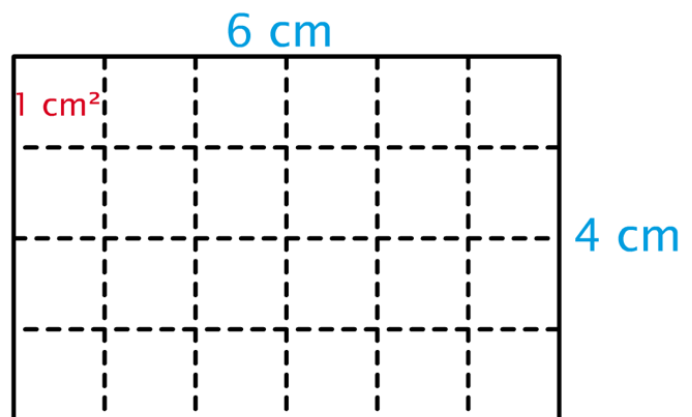


# Calculer l'aire du carré et du rectangle

- L'aire d'un rectangle s'obtient en multipliant sa longueur par sa largeur.




Aire :  $6 \text{ cm} \times 4 \text{ cm} = 24 \text{ cm}^2$



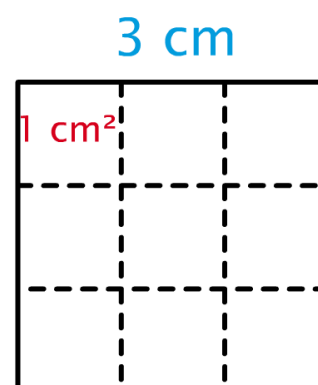
Aire :  $6 \text{ cm} \times 4 \text{ cm} = 24 \text{ cm}^2$

Aire du rectangle :  $L \times l$

- L'aire d'un carré s'obtient en multipliant la longueur du côté par elle-même.



Aire :  $3 \text{ cm} \times 3 \text{ cm} = 9 \text{ cm}^2$



Aire :  $3 \text{ cm} \times 3 \text{ cm} = 9 \text{ cm}^2$

Aire du carré :  $c \times c$