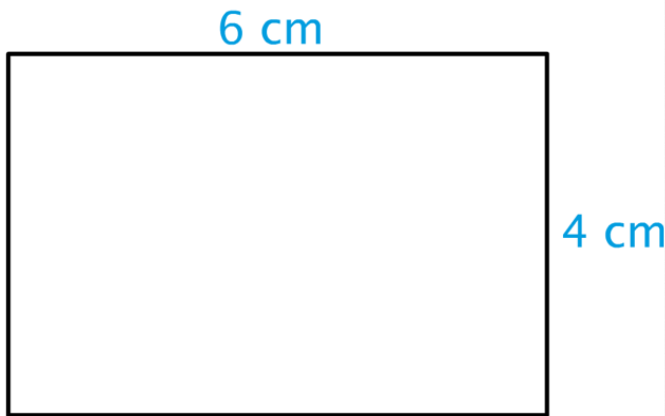
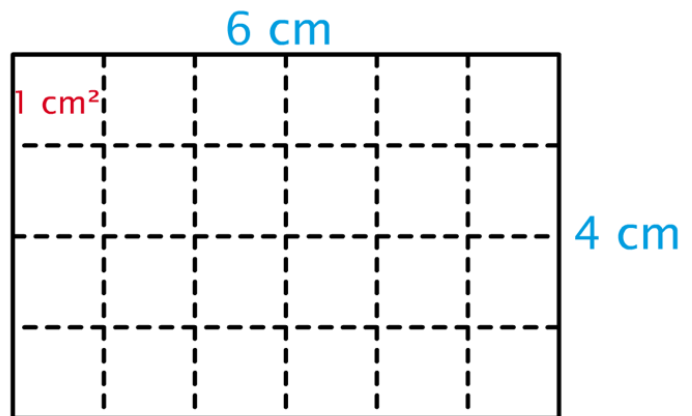


# Calcul d'aires

- L'aire d'un rectangle s'obtient en multipliant sa longueur par sa largeur.




$$\text{Aire : } 6 \text{ cm} \times 4 \text{ cm} = 24 \text{ cm}^2$$



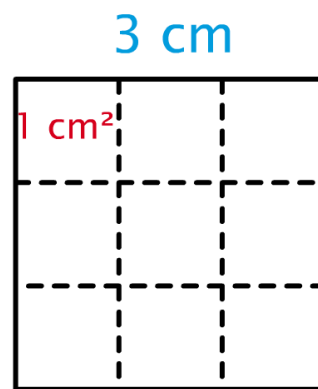
$$\text{Aire : } 6 \text{ cm} \times 4 \text{ cm} = 24 \text{ cm}^2$$

Aire du rectangle :  $L \times l$

- L'aire d'un carré s'obtient en multipliant la longueur du côté par elle-même.



$$\text{Aire : } 3 \text{ cm} \times 3 \text{ cm} = 9 \text{ cm}^2$$



$$\text{Aire : } 3 \text{ cm} \times 3 \text{ cm} = 9 \text{ cm}^2$$

Aire du carré :  $c \times c$

